

Ejercicio 1: Hay 5 globos y llegan 5 más. ¿Cuántos hay en total?



Resultado: _____

Ejercicio 2: Hay 4 globos y llegan 8 más. ¿Cuántos hay en total?



Resultado: _____

Ejercicio 3: Hay 4 globos y llegan 8 más. ¿Cuántos hay en total?



Resultado: _____

Ejercicio 4: Hay 3 globos y llegan 1 más. ¿Cuántos hay en total?





Resultado: _____

Ejercicio 5: Hay 2 globos y llegan 7 más. ¿Cuántos hay en total?



Resultado: _____

Ejercicio 6: Hay 5 globos y llegan 1 más. ¿Cuántos hay en total?



Resultado: _____

Ejercicio 7: Hay 2 globos y llegan 4 más. ¿Cuántos hay en total?



Resultado: _____

Ejercicio 8: Hay 5 globos y llegan 10 más. ¿Cuántos hay en total?



Resultado: _____

Ejercicio 9: Hay 6 globos y llegan 3 más. ¿Cuántos hay en total?



Resultado: _____

Ejercicio 10: Hay 9 globos y llegan 7 más. ¿Cuántos hay en total?



Resultado: _____

Ejercicio 11: Hay 1 globos y llegan 3 más. ¿Cuántos hay en total?





Resultado: _____

Ejercicio 12: Hay 4 globos y llegan 5 más. ¿Cuántos hay en total?



Resultado: _____

Ejercicio 13: Hay 2 globos y llegan 6 más. ¿Cuántos hay en total?



Resultado: _____

Ejercicio 14: Hay 7 globos y llegan 7 más. ¿Cuántos hay en total?



Resultado: _____

Ejercicio 15: Hay 5 globos y llegan 5 más. ¿Cuántos hay en total?



Resultado: _____

Ejercicio 16: Hay 3 globos y llegan 4 más. ¿Cuántos hay en total?




Resultado: _____

Ejercicio 17: Hay 8 globos y llegan 4 más. ¿Cuántos hay en total?



Resultado: _____

Ejercicio 18: Hay 3 globos y llegan 3 más. ¿Cuántos hay en total?





Resultado: _____

Ejercicio 19: Hay 6 globos y llegan 2 más. ¿Cuántos hay en total?



Resultado: _____

Ejercicio 20: Hay 10 globos y llegan 5 más. ¿Cuántos hay en total?



Resultado: _____

Ejercicio 21: Hay 4 globos y llegan 10 más. ¿Cuántos hay en total?




Resultado: _____

Ejercicio 22: Hay 9 globos y llegan 9 más. ¿Cuántos hay en total?



Resultado: _____

Ejercicio 23: Hay 4 globos y llegan 6 más. ¿Cuántos hay en total?



Resultado: _____

Ejercicio 24: Hay 10 globos y llegan 10 más. ¿Cuántos hay en total?



Resultado: _____

Ejercicio 25: Hay 8 globos y llegan 10 más. ¿Cuántos hay en total?





Resultado: _____

Ejercicio 26: Tenías 15 caramelos y comes 1. ¿Cuántos te quedan?



Resultado: _____

Ejercicio 27: Tenías 6 caramelos y comes 1. ¿Cuántos te quedan?



Resultado: _____

Ejercicio 28: Tenías 7 caramelos y comes 4. ¿Cuántos te quedan?



Resultado: _____

Ejercicio 29: Tenías 8 caramelos y comes 1. ¿Cuántos te quedan?




Resultado: _____

Ejercicio 30: Tenías 6 caramelos y comes 5. ¿Cuántos te quedan?



Resultado: _____

Ejercicio 31: Tenías 12 caramelos y comes 5. ¿Cuántos te quedan?



Resultado: _____


Ejercicio 32: Tenías 8 caramelos y comes 1. ¿Cuántos te quedan?






Resultado: _____

Ejercicio 33: Tenías 7 caramelos y comes 2. ¿Cuántos te quedan?



Resultado: _____

Ejercicio 34: Tenías 5 caramelos y comes 5. ¿Cuántos te quedan?



Resultado: _____

Ejercicio 35: Tenías 9 caramelos y comes 2. ¿Cuántos te quedan?



Resultado: _____

Ejercicio 36: Tenías 5 caramelos y comes 3. ¿Cuántos te quedan?



Resultado: _____

Ejercicio 37: Tenías 8 caramelos y comes 1. ¿Cuántos te quedan?



Resultado: _____

Ejercicio 38: Tenías 6 caramelos y comes 1. ¿Cuántos te quedan?



Resultado: _____


Ejercicio 39: Tenías 14 caramelos y comes 2. ¿Cuántos te quedan?





Resultado: _____

Ejercicio 40: Tenías 8 caramelos y comes 5. ¿Cuántos te quedan?




Resultado: _____

Ejercicio 41: Tenías 11 caramelos y comes 1. ¿Cuántos te quedan?




Resultado: _____

Ejercicio 42: Tenías 11 caramelos y comes 4. ¿Cuántos te quedan?



Resultado: _____

Ejercicio 43: Tenías 7 caramelos y comes 4. ¿Cuántos te quedan?




Resultado: _____

Ejercicio 44: Tenías 8 caramelos y comes 2. ¿Cuántos te quedan?




Resultado: _____


Ejercicio 45: Tenías 13 caramelos y comes 5. ¿Cuántos te quedan?



Resultado: _____

Ejercicio 46: Tenías 15 caramelos y comes 5. ¿Cuántos te quedan?





Resultado: _____

Ejercicio 47: Tenías 8 caramelos y comes 1. ¿Cuántos te quedan?



Resultado: _____

Ejercicio 48: Tenías 11 caramelos y comes 5. ¿Cuántos te quedan?





Resultado: _____

Ejercicio 49: Tenías 5 caramelos y comes 4. ¿Cuántos te quedan?



Resultado: _____

Ejercicio 50: Tenías 5 caramelos y comes 4. ¿Cuántos te quedan?



Resultado: _____

Ejercicio 51: Dibuja 4 filas de 4 estrellas. ¿Cuántas hay en total?



Resultado: _____

Ejercicio 52: Dibuja 5 filas de 3 estrellas. ¿Cuántas hay en total?



Resultado: _____

Ejercicio 53: Dibuja 4 filas de 2 estrellas. ¿Cuántas hay en total?





Resultado: _____

Ejercicio 54: Dibuja 3 filas de 4 estrellas. ¿Cuántas hay en total?



Resultado: _____

Ejercicio 55: Dibuja 5 filas de 4 estrellas. ¿Cuántas hay en total?



Resultado: _____

Ejercicio 56: Dibuja 4 filas de 3 estrellas. ¿Cuántas hay en total?



Resultado: _____

Ejercicio 57: Dibuja 2 filas de 5 estrellas. ¿Cuántas hay en total?



Resultado: _____

Ejercicio 58: Dibuja 3 filas de 4 estrellas. ¿Cuántas hay en total?



Resultado: _____

Ejercicio 59: Dibuja 2 filas de 2 estrellas. ¿Cuántas hay en total?



Resultado: _____

Ejercicio 60: Dibuja 2 filas de 5 estrellas. ¿Cuántas hay en total?





Resultado: _____

Ejercicio 61: Dibuja 2 filas de 5 estrellas. ¿Cuántas hay en total?



Resultado: _____

Ejercicio 62: Dibuja 2 filas de 5 estrellas. ¿Cuántas hay en total?



Resultado: _____

Ejercicio 63: Dibuja 3 filas de 4 estrellas. ¿Cuántas hay en total?



Resultado: _____

Ejercicio 64: Dibuja 4 filas de 5 estrellas. ¿Cuántas hay en total?



Resultado: _____

Ejercicio 65: Dibuja 5 filas de 4 estrellas. ¿Cuántas hay en total?



Resultado: _____

Ejercicio 66: Dibuja 3 filas de 5 estrellas. ¿Cuántas hay en total?



Resultado: _____

Ejercicio 67: Dibuja 2 filas de 4 estrellas. ¿Cuántas hay en total?





Resultado: _____

Ejercicio 68: Dibuja 2 filas de 4 estrellas. ¿Cuántas hay en total?



Resultado: _____

Ejercicio 69: Dibuja 2 filas de 4 estrellas. ¿Cuántas hay en total?



Resultado: _____

Ejercicio 70: Dibuja 4 filas de 2 estrellas. ¿Cuántas hay en total?



Resultado: _____

Ejercicio 71: Dibuja 5 filas de 4 estrellas. ¿Cuántas hay en total?



Resultado: _____

Ejercicio 72: Dibuja 2 filas de 2 estrellas. ¿Cuántas hay en total?



Resultado: _____

Ejercicio 73: Dibuja 5 filas de 5 estrellas. ¿Cuántas hay en total?



Resultado: _____

Ejercicio 74: Dibuja 4 filas de 2 estrellas. ¿Cuántas hay en total?





Resultado: _____

Ejercicio 75: Dibuja 3 filas de 2 estrellas. ¿Cuántas hay en total?



Resultado: _____

Ejercicio 76: En el jardín hay 3 flores y crecen 4 más. ¿Cuántas flores hay ahora?



Resultado: _____

Ejercicio 77: En el jardín hay 4 flores y crecen 3 más. ¿Cuántas flores hay ahora?



Resultado: _____

Ejercicio 78: En el jardín hay 1 flores y crecen 4 más. ¿Cuántas flores hay ahora?



Resultado: _____

Ejercicio 79: En el jardín hay 1 flores y crecen 3 más. ¿Cuántas flores hay ahora?



Resultado: _____

Ejercicio 80: En el jardín hay 8 flores y crecen 4 más. ¿Cuántas flores hay ahora?



Resultado: _____

Ejercicio 81: En el jardín hay 1 flores y crecen 9 más. ¿Cuántas flores hay ahora?





Resultado: _____

Ejercicio 82: En el jardín hay 8 flores y crecen 1 más. ¿Cuántas flores hay ahora?



Resultado: _____

Ejercicio 83: En el jardín hay 4 flores y crecen 3 más. ¿Cuántas flores hay ahora?



Resultado: _____

Ejercicio 84: En el jardín hay 4 flores y crecen 9 más. ¿Cuántas flores hay ahora?



Resultado: _____

Ejercicio 85: En el jardín hay 6 flores y crecen 9 más. ¿Cuántas flores hay ahora?




Resultado: _____

Ejercicio 86: En el jardín hay 4 flores y crecen 3 más. ¿Cuántas flores hay ahora?



Resultado: _____

Ejercicio 87: En el jardín hay 8 flores y crecen 6 más. ¿Cuántas flores hay ahora?



Resultado: _____

Ejercicio 88: En el jardín hay 2 flores y crecen 2 más. ¿Cuántas flores hay ahora?





Resultado: _____

Ejercicio 89: En el jardín hay 8 flores y crecen 1 más. ¿Cuántas flores hay ahora?



Resultado: _____

Ejercicio 90: En el jardín hay 8 flores y crecen 1 más. ¿Cuántas flores hay ahora?



Resultado: _____

Ejercicio 91: En el jardín hay 3 flores y crecen 2 más. ¿Cuántas flores hay ahora?



Resultado: _____

Ejercicio 92: En el jardín hay 3 flores y crecen 4 más. ¿Cuántas flores hay ahora?



Resultado: _____

Ejercicio 93: En el jardín hay 4 flores y crecen 1 más. ¿Cuántas flores hay ahora?



Resultado: _____

Ejercicio 94: En el jardín hay 4 flores y crecen 5 más. ¿Cuántas flores hay ahora?



Resultado: _____

Ejercicio 95: En el jardín hay 2 flores y crecen 4 más. ¿Cuántas flores hay ahora?





Resultado: _____

Ejercicio 96: En el jardín hay 6 flores y crecen 4 más. ¿Cuántas flores hay ahora?



Resultado: _____

Ejercicio 97: En el jardín hay 8 flores y crecen 7 más. ¿Cuántas flores hay ahora?



Resultado: _____

Ejercicio 98: En el jardín hay 8 flores y crecen 9 más. ¿Cuántas flores hay ahora?



Resultado: _____

Ejercicio 99: En el jardín hay 2 flores y crecen 10 más. ¿Cuántas flores hay ahora?



Resultado: _____

Ejercicio 100: En el jardín hay 4 flores y crecen 3 más. ¿Cuántas flores hay ahora?



Resultado: _____